

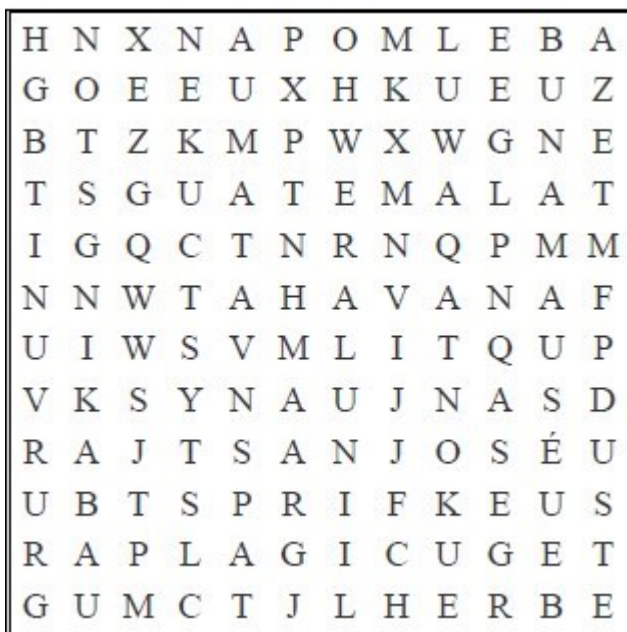
Moje jméno: \_\_\_\_\_

## Karibik

Nejprve pracujte s atlasem (otázky 1 a 2), poté zhlédněte videa a odpovězte na zbývající otázky.

- ▣ Jamajka: rastafariáni
- ▣ Dominikánská republika

1. Najděte v osmisměrce 9 hlavních měst států Střední Ameriky, poté ke každému městu uveďte příslušný stát.



.....

.....

.....

.....

.....

.....

.....

.....

.....


.....

.....

.....

2. Na jaké dvě části se dělí ostrovní část Střední Ameriky? Uveďte příklady ostrovů z obou oblastí (pro každou oblast nejméně 3 ostrovy)

.....



Moje jméno: \_\_\_\_\_

3. Jakým mořeplavcem byla objevena Jamajka a kdy k tomu došlo?

.....

4. Jaký sociální problém je spojen s Jamajkou?

.....

.....

.....

5. Jakým způsobem je na Jamajce zvyšován výnos pěstování konopí?

.....

6. Proč je na Jamajce mnoho ilegálních pěstitelů konopí, když je tato plodina na ostrově legalizována?

.....

7. Jaké ekonomické odvětví tvoří hlavní příjmy Dominikánské republiky a proč?


.....

8. Uveďte plodiny pěstované v Dominikánské republice. Která z těchto plodin je v tomto státě nejhojněji pěstovaná a k čemu se využívá?

.....

.....

Co jsem se touto aktivitou naučil(a):



.....

.....

.....



**Moje jméno:** \_\_\_\_\_



Autor: Jana Fuková

Toto dílo je licencováno pod licencí Creative Commons [CC BY-NC 4.0]. Licenční podmínky navštivte na adrese [<https://creativecommons.org/choose/?lang=cs>].

